

JEU DE PISTE 3-6 ANS

JEU DE PISTE 3-6 ANS

JEU DE PISTE 7-12 ANS

L'EAU : UN ENJEU HISTORIQUE

LET'S go

Saint-Marcel-d'Ardèche



1 h de promenade et de jeux en famille !

Accessible avec une poussette

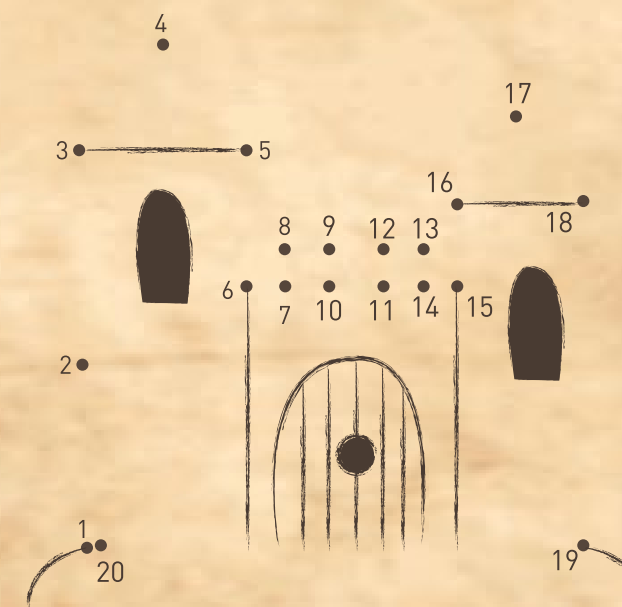
Pendant ta balade, partage tes aventures sur les réseaux sociaux #letsgoardeche



3/ Place Soubeyran Trouve les animaux cachés dans la photo

un \_\_\_\_\_ et une \_\_\_\_\_

4 / Tour seigneuriale relis les points



Le Lavoir

1/ Trouve les 7 différences sur les images du lavoir de Saint-Marcel-d'Ardèche.



2/ Place du Ponteil

Aide la petite goutte à parcourir le cycle de l'eau en reliant les points dans l'ordre.



Ne pas jeter sur la voie publique  
imprimé dans le respect de l'environnement

Saint-Marcel-d'Ardèche



Début du parcours :  
Maison des Service au public

5 BUREAUX D'INFORMATION POUR MIEUX VOUS ACCUEILLIR :

- Bourg-Saint-Andéol
- Larnas
- Viviers
- Saint-Martin d'Ardèche
- Saint-Marcel d'Ardèche

Tél. 04 75 54 54 20  
contact@rhone-gorges-ardeche.com  
www.rhone-gorges-ardeche.com

DU RHÔNE AUX gorges de l'ARDÈCHE

Avec la participation de la mairie de Saint-Marcel-d'Ardèche et l'association Bourg en Transition.





Cite trois anciens métiers en lien avec le fleuve :

M \_ \_ i \_ i \_ R


C \_ \_ \_ i \_ R

PE \_ \_ E \_ R

### 3/ Place du Monument aux Morts :

Cherche la Fontaine de Vivier.

Lors de la construction du Château de Pierre de Bernis, il y eut un partage de l'eau de la source. La fontaine de Vivier est mentionnée dès le XIV<sup>ème</sup> siècle.




Pour trouver cette fontaine, au départ du portail du Château, fais 30 pas à droite, prends la ruelle en face et fais encore 30 pas.



### 2/ Porte du Rhône :


Pourquoi s'appelle-t-elle comme ça ?



L'implantation du village est en lien avec cet axe majeur de communication. Le Rhône rendait les terres fertiles et il permettait de voyager.

A l'aide d'un miroir, décrypte le vieux proverbe :

poilgi b92 q6 fou 69n  
LONFINS 16 NS



### 4 /Place du Ponteil

La fontaine de cette place est réalisée par l'architecte Baussan au XIX<sup>ème</sup> siècle. L'eau provient de la même source que le lavoire. Laquelle ?

\_ \_ \_ \_ de \_ \_ \_ \_ \_

Les habitants utilisent l'eau des fontaines jusqu'aux années 60, peu de logements ayant l'eau courante avant 1963.

Prendre la rue de là R



Zut le papier a pris l'eau ! Le nom de la rue que tu dois emprunter s'est effacé ! Essaie de résoudre ce rébus pour retrouver le nom de la rue.



Prendre la rue de

la R \_ \_ \_ \_ \_

### 5/Place Soubeyran

Cette fontaine était utilisée pour abreuver les hommes et les animaux, mais il était interdit d'y laver le linge.


Quel est le nom de l'architecte de cette fontaine ? Pour le découvrir, remets les lettres dans l'ordre : N A S A S U B

Indice : il s'agit du même architecte que le lavoire et la fontaine situés place du Ponteil


\_ \_ \_ \_ \_



### 6/Eglise



Observe le clocher. Combien comptes tu de gargouilles ? D'après toi, à quoi servent elles ?



Selon la légende, les gargouilles avaient aussi pour rôle de chasser les mauvais esprits.

Complète l'expression suivante :

S \_ DÉME \_ E \_  
\_ OM \_ E UN  
DI \_ BLE DANS  
L'EA \_ \_ ÉNITE

Pour t'aider, voici les lettres dans le désordre :

B / N / M / A / R / U / C / E

### 7/ Tour seigneuriale

Datant du XIII<sup>ème</sup> siècle, cette tour de défense fut construite par un seigneur de Saint-Marcel pour montrer son pouvoir. Au Moyen-âge, les hommes vivent tous à l'intérieur du village entouré de remparts. Il n'y a pas l'eau courante, on ne nettoie jamais les rues qui sont en terre battue, non seulement ses 2000 habitants vident leurs détritres en pleine rue, mais nombre de poules, cochons, moutons et chèvres salissent les rues de leurs excréments.

Chaque année, un volontaire achète le droit de ramasser les excréments pour fabriquer et vendre du fumier.

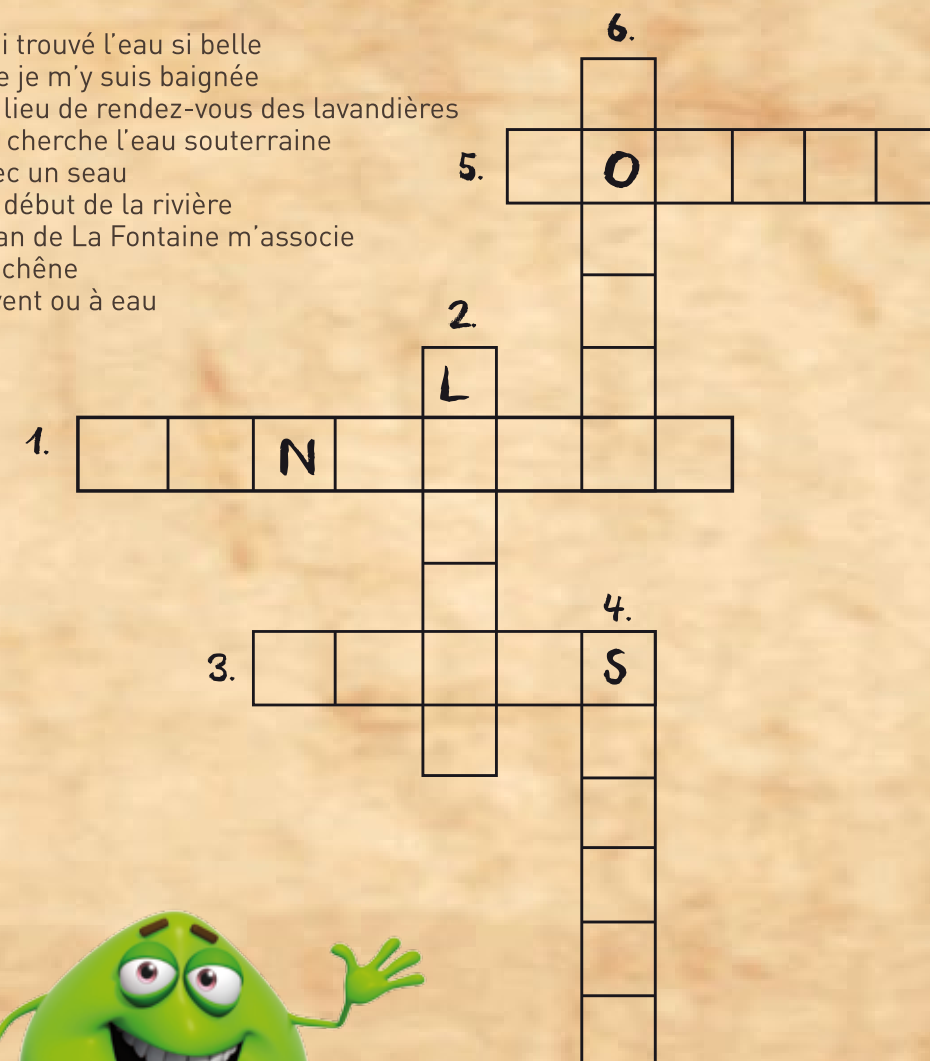
Dans un village de 2000 habitants, on trouve 400 familles. Chaque famille possède 2 poules, 1 cochon et 4 moutons. Un poule produit environ 15 kg de fiente par an, un porc 400 kg et un mouton 300 kg. Combien de déjections va-t-on ramasser chaque année par habitant ?



## BONUS

Complète la grille d'après les définitions.

- J'ai trouvé l'eau si belle que je m'y suis baignée
- Le lieu de rendez-vous des lavandières
- J'y cherche l'eau souterraine avec un seau
- Le début de la rivière
- Jean de La Fontaine m'associe au chêne
- A vent ou à eau



Réponses  
1/ Lavoire - 2/ proximité du fleuve et vieux métiers - marinier - cordier - pêcheur - 3/ Fontaine, je ne boirai pas de ton eau 4/ Font de Mazade Rue de la ralle - 5/ Baussan - 6/ les 4 gargouilles servent à recueillir l'eau de pluie - Se démoner comme un diable dans l'eau bête - 7/ 30kg 2 poules, 400kg cochon + 1200 kg 4 moutons : 1630 kg X 500 (2000 divisé par 4) soit 815 000 kg de croties au total  
BONUS : fontaine, lavoire, puits, source, roseau, moulin.